

رسالت

الاسطرلاب

لابي نصر منصور بن علي بن عراق مولى امير المؤمنين
الى ابي الريحان محمد بن احمد البيروني المتوفى
في عشر الثلاثين واربعمائة من الهجرة رحمه الله
تعالى في الدوائر التي تحدد الساعات الزمانية
وبعض ما يتصل بعمل الاسطرلاب



الطبعة الاولى

بمطبعة جمعية دائرة المعارف العثمانية بعاصمة الدولة
الاصفوية الاسلامية بميدان آباد الدكن لازالت
شمس افاداتها بازغمة وبدور
افاضاً تها طالعاً الى
آخر الزمن
سنة ١٣٦٦هـ

بسم الله الرحمن الرحيم

سألت ايدك الله عن الدوائر المرسومة في سطح الاسطرلاب
على مبادئ الساعات الزمانية. فقلت هل يصح العمل بها في سائر
المدارات التي ليست مرسومة في سطحه ام لا. وكيف البرهان
على اى ذلك كان الصحيح وكيف السبيل الى وجود مراكز تلك
الدوائر على غير الوجه الصناعي المستعمل فيه. ولت هل يمكن ان
تتقاطع دوائر كثيرة منها على نقطة واحدة ام لا. وحكيت عن
ابى محمد السبكي في وجود مراكز دوائر السموت ومعرفة مقادير
اقطارها في سطح الاسطرلاب. فولا ارسله من غير برهان اقامه
واعجبك العمل به لهولته فثلثت عن كيفية البرهان على
ما ذكره.

فاوجبت اجابتك الى ملتسك وها انا مبين لك ذلك مرتبا
ومعرض في جلة عما سبق اليه غيرى ليكون اتم فائدة واصح الى
نسبة وباللله الحول والقوة.

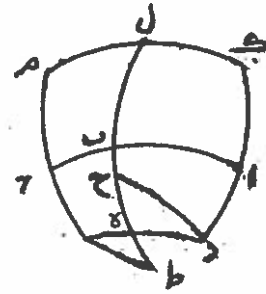
اذا

أ - إذا كانت على الكرة دوائر متوازية ودائرتان عظيمتان
احداهما او كلتا هما ما تلة على المتوازية فان الذي يفصلانه من كل
دائرتين منها متساوي البعد من عقابتهما يتكافأ عند ما يفصلانه من
العظيمة - مثاله ان دائرتي - ا ب ج - د ه ز - العظيمة احدهما
او كلتا هما ما تلة على دوائر - اد - ب - ه ج ز - الموازية و - به -
هي العظيمة وبعد - اد - منها مساو وبعد - ج ز -

فاقول ان - اد - ج ز - يتكافأ عند - ب ه - برهانه
انا نرسم على تقطبي - د ز - دائرتي - د ج - ز ط - قائمتين على
الدوائر المتوازية فلان - د ج - مساو - اد ط - وزاويتا - ح ط -
متساويتان وزاويتا - ه - المتقابلتان متساويتان فان مثلث - د ه ح -
مساو لمثلث - ز ه ط - و - ه ح - ه ط - متساويان وان كانت
- ا ب ج - قائمة على المتوازية فين مما ذكرنا ان - اد - ج ز - يتكافأ
عند - ب ه - وان لم يكن كذلك فانا نرسم - ك ل م - قائمة على
الدوائر المتوازية - فأك - ج م - يتكافأ عند - ب ل - وكذلك
- دك - (١) يتكافأ عند - ه ل - فأد - ج ز - يتكافأ عند - ب ه -
وذلك ما اردنا ان نبين (٢) .

ب - اذا كانت على الكرة دوائر متوازية ودائرتان
عظيمتان احداهما او كلتا هما ما تلة على المتوازية فان الذي يفصلانه
من كل واحد من صفار المتوازية في الجهتين المتقابلتين يتكافأ عند

(١) مهنا نحر م في الاصل (٢) الشكل الثاني .



الاسطرلاب ص ٣
شكل (٢)

ما يفصلانه من عظيمة المتوازية في تينك الجهتين - مثاله ان دائرتي
 - ا ب ج د - ا ه ج ز - احدهما او كلتا هما مائلة على الدوائر
 المتوازية و - ب ه د ز - هي العظيمة ودائرة - ح ط ي ك - احدي
 الصغار .

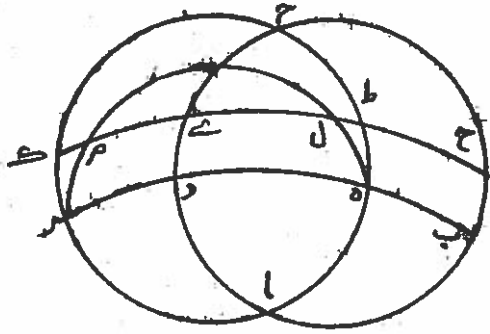
فاقول ان - ي ك - ح ط - يتكافأ عند - ب ه - .

فاقول ان - ي ك - ح ط - يتكافأ عند - ب ه - .

برهانه انا برسم دائرة - ه ل م ز - قائمة على المتوازية فلان
 ه ل م ر - متساويتان فان - ر ك ه ط - متساويتان فدائرة
 - ا ب ج د - ان كانت قائمة على المتوازية فان - ط ح ك ي -
 يتكافأ عند - ب ه - وان لم يكن كذلك فانا ندبر كما دبرنا في الشكل
 المتقدم فيبين انه كذلك يتكافأ - ط ح ك ي - عند - ب ه - وذلك
 ما اردنا ان نبين (١) .

ج - اذا كانت على الكرة دوائر متوازية ودوائر عظام
 تتقاطع على نقطة واحدة وليس جميعها قائمة على المتوازية فان القسي
 التي بينها من عظيمة المتوازية وفي جهة واحدة من قطبها نسب
 بعضها الى بعض غير نسب ما تقع بينها من كل واحدة من صغار
 المتوازية بعضها الى بعض .

مثاله ان دوائر - ا ب ج - ا د ه - ا ز ح - العظام من دائرتي
 ج ه ح - م د ز - على الصفة التي ذكرنا في ج ه ح - هي



الاسطرلاب ص ٣
 شكل (٣)

الاسطرلاب

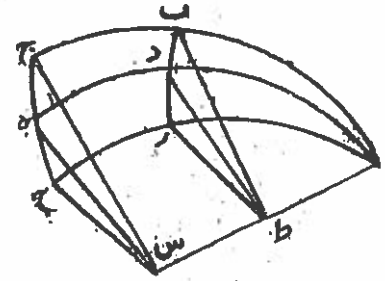
٥

المظبية •

فأقول ان نسبة -- ج هـ -- الى -- ح -- غير نسبة -- ب د --
الى -- د ز -- •

برهانه انا نخرج الفصل المشترك للدوائر الثلاث الى مركز
الكرة وليكن -- اس -- ولتقطع سطح دائرة -- ب د ز -- على ط
ونخرج خطوط -- س ج -- س هـ -- س ح -- ط ب -- ط د -- ط ز --
المستقيمة فلأن تقط -- ط ب -- س -- ح -- في سطح دائرة -- ا ب ج --
فانها تفصل دائرتي -- ج هـ ح -- ب د ز -- المتوازيتين على خطي --
س ج -- ط ب -- فخطا -- س ج -- ط ب -- متوازيان ولمثل ذلك
ايضا خطا -- ط د -- س هـ -- متوازيان وخطا -- ط ز -- س ج --
متوازيان فزاويتا -- ب ط د -- ج س هـ -- متساويتان وزاويتا --
د ط ز -- هـ س ح -- متساويتان لكن نقطة -- س -- مركز
دائرة (١) ونقطة -- ط -- ليس مركز دائرة -- ب د ز -- ولا واحد
من خطوط -- ب ط -- د ط -- ز ط -- من قطبها في جهته الاخرى
فنسبة -- ج هـ -- الى -- ح -- كنسبة زاوية -- ج س هـ -- الى
زاوية -- هـ س ح -- وليست نسبة -- ب د -- الى -- د ز -- كنسبة
زاوية -- ب ط د -- الى زاوية -- د ط ز -- فليست نسبة -- ج هـ --
الى -- ح -- كنسبة -- ب د -- الى -- د ز -- وذلك ما اردنا ان
نبين (٢) •

(١) هنا خرم من الاصل (٢) الشكل الرابع



الاسطرلاب ص ٥
شكل (٣)

وإذا كانت - اد ه - قائمة على الدوائر المتوازية وزاويتا
ه ا ج - ه ا ح - متساويتين فان - ج ه - ه ح - تكونان
متساويتين وكذلك - ب د - د ز - وذلك ان زاويتي - ه -
تكونان متساويتين وكذلك زاويتا - د - ومثلث - ا ه ح -
تكون مساوية لمثلث - ا ه ح - ومثلث - اد ز - مساويا للمثلث -
اد ب .

د - اذا كانت على الكرة دوائر متوازية ودائرتان عظيمتان
مائلتان عليها بفضل عظيمة متوازية واحدى صفارها فيما بينهما وبين
احدى القائمة على المتوازية وفي جهة واحدة منها على نسبة واحدة
فانها ليست تفصل سائر المتوازية الغير المساوية لتلك الصغيرة على
تلك النسبة .

مثاله ان دائرتي - اب - ج د - العظيمتين مائلتان على
دائرتي - ب د - العظيمة و - ا ج - الموازية لها ويفصلهما فيما
بينهما وبين دائرة - ه ز - القائمة على المتوازية على نسبة واحدة
والمائلتان من القائمتين في جهة واحدة .

فاقول انها ليست تفصل دائرتي خطي (١) التي من الدوائر
المتوازية على تلك النسبة .

برهانها اننا رسم على قطب المتوازية وعلى تقط - ا ط ج
ي - قبي - ك ال - ك ط م - ك ح ن - ك س ن - من دوائر

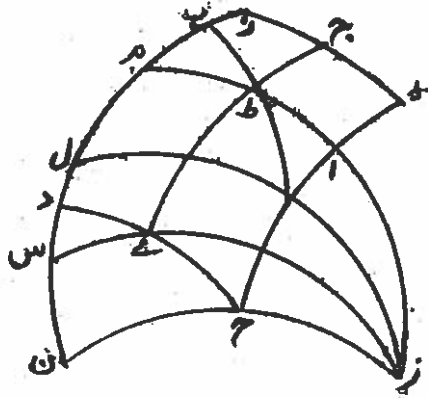
عظام فلان زاويتي - ل م - متساويتان في مثلثي - ل ب ا - م ب
ط - وزاوية - ب - مشتركة فان نسبة - جيب - ل ب - الى جيب
م ب - كنسبة جيب - ال - الى جيب - ط م - مثناة بنسبة جيب
زاوية - ل اب - الى جيب زاوية - م طب - وكذلك ايضا في
مثلثي - ن د ج - س د ي - نسبة جيب - ن د - الى جيب - د س -
كنسبة جيب - ن ج - الى جيب - س ي - مثناة بنسبة جيب زاوية
ن ج د - الى جيب زاوية - س ي د - ولكن - ب ج - يساوي - ال
وس ي - يساوي - م ط - فنسبة جيب - ب ج - الى جيب - س ي
هي نسبة جيب - ال - الى جيب - م ط - وايضا نسبة جيب زاوية
ب ح د - الى جيب زاوية - س د - هي نسبة جيب زاوية - ل اب
الى جيب زاوية - م طب - لان - ك ط - يساوي - ك ي - و - ك ا
يساوي - ك ج - فنسبة جيب - ب د - الى جيب - د س - كنسبة
جيب - ل ب - الى جيب - ب م - ونسبة - ب ز - الى - ز ل - كنسبة
د ز - الى - د ب - فنسبة - ب د - الباقي الى - ل ب - الباقي كنسبة
د ز - الى - ز ب - فن د اعظم من - ب ل - والجيوب كما يناسبتا
فليست نسبة - ب د - الى - د س - كنسبة - ل ب - الى - ل م - واذا
بدلتنا ليست نسبة - ب د - الى - ل ب - كنسبة - د س - الى - ل م
فنسبة - د س - الى - ل م - غير نسبة - د ز - الى - ز ب - فنسبة - س
ز - الى - د م غير نسبة - د ز - الى - ز ب - فنسبة - ب ح - الى - ج ط

غير نسبة - دز - الى - زب - وذلك ما اردنا ان نبين (١) .
فهذا فيما يجيب عنه من خواص هذه الدوائر بحسب دربتك
في هذا العلم شرح كاف ، فاما كيف وجود مراكزها على غير الطريق
الصناعي المستعمل فهكذا .

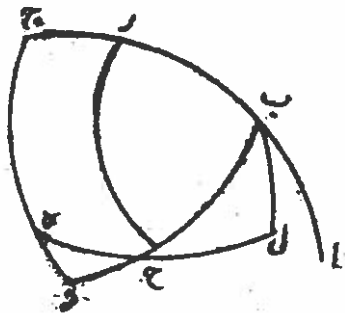
هـ - لتكن - اب ج - من الدوائر القائمة على الدوائر المتوازية
و - ج د - عظيما و - زح - من الدوائر المتوازية معلومة البعد
من - ج د - ودائرة - ح هـ - الدائرة التي تريد وجود مركزها
زح ج د - مفروضتين فترسم على قطب المتوازية وعلى نقطة - ج
دائرة - ب ح د - العظيمة ونخرج من - ب - ايضا على دائرة
هـ ح - عمود - ب ل - فلان كل واحد من - ده زح - معلوم
وزاوية - د - معلومة فان مثلث - دح هـ - معلوم الصورة فثلث
- ب ل ح - معلوم الاضلاع والصورة وزاوية - ب - مفروضة
فتبقى زاوية - ا ب ل - معلومة فعلى خط - ب ل - الملمومة الوضع
في سطح الاسطرلاب نطلب مركز دائرة بعدها من قطب قوس
- ب ل - الملمومة فنجده ووجود مراكزها للدوائر هكذا
وذلك ما اردنا ان نجد . (٢)

والذي حكيت عن السبق صحيح البرهان هذا الذي اذكره .
ليكن القطب نقطة - ا - و - اب - مفروضا وزاوية - اب ج

(١) الشكل الخامس (٢) الشكل السادس .



الاسطرلاب ص ٥
شكل (٥)



الاسطرلاب ص ٥
شكل (٦)

الشكل ونخرج - دب ه - د ج ز - وتوهم نقطة - ح - مركز
 الدائرة التي تمر في الكرة على نقطة - ب - والمقابلة لها و - ط
 مركز الدائرة التي تمر على نقطة - ج - والمقابلة لها فيكون - ح
 مركز الدائرة القائمة على نقطة - ب - من دائرة - اب - في
 الشكل المتقدم و - ط - مركز دائرة - ب ج - ونصل - د ح
 د ط - فخطا - اط - اح - وان كانا في سطح الاسطرلاب يحيطان
 بزواوية في البسيط شبيهة بزواوية - ا - في الكرة لان خطي - اب
 اح - في سطح الاسطرلاب يتومان ايضا مقام قطريهما القائمين
 على الفصل المشترك للدائرتين فان النسب التي تعطينا هذه الخطوط
 كانت متقاطعة او محدودة بنقط في خط واحد فلذلك رسمناها في
 الصورة على هذا المثال لما نما وله من تعيين نسبها بعضها الى بعض
 فاتبين في هذه الصورة ان نسبة - اط - الى - اح - كنسبة - د ط
 الى - د ح - مثناة بنسبة جيب زاوية - اد ط - الى جيب زاوية
 اد ح - وبين ايضا ان نسبة - د ط - الى - اط - كنسبة جيب
 زاوية - ا - القائمة الى جيب زاوية - اد ط - وان نسبة - د ط
 الى - د ح - كنسبة جيب زاوية - ح - الى جيب زاوية - ط
 فاما زاوية - ح - المنفرجة فضعف زاوية - ه - التي بمقدار - ب د
 واما زاوية - ط - المنفرجة فضعف زاوية - ز - التي بمقدار - ج د
 فنسبة - د ط - الى - د ح - كنسبة جيب - اب - الى جيب - اح

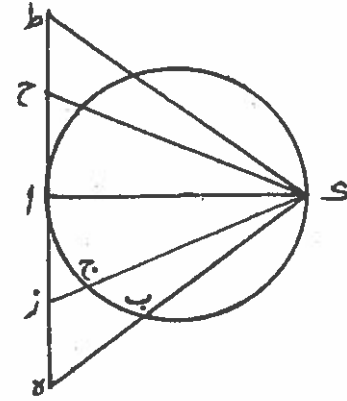
ولان

ولان زاوية - ط - الى - ده - ضعف - اج - فان زاوية - ط - د -
 بمقدار ضعف تمام - اب - فنسبة - اط - الى - اح - كنسبة
 جيب - اب - الى جيب - اج - مشتاة بنسبة جيب تمام - اج -
 الى جيب تمام - اب - فنسبة - اط - الى - اح - كنسبة جيب
 ج - ز - في الشكل المتقدم الى جيب - ز ه - ونسبة - د ط - الى
 اط - كنسبة جيب زاوية - ا - في ذلك الشكل ايضا الى جيب
 ح ط - التي هي نسبة جيب زاوية - ح - القائمة الى جيب - اط
 ونسبة - د ط - الى - د ح - كنسبة جيب زاوية - ج - القائمة
 الى جيب زاوية - ب - المنفرجة التي هي نسبة جيب - اب الى
 جيب - اج - .

وها هنا فلنذكر طريقا سهلا في معرفة اقطار الدوائر المائلة
 المعلومة البعد من القطب - تتبين مما ذكرنا وينا من مقادير هذه
 الزوايا (١) .

ح - وهو انا تأخذ دائرة - اد - من عند نقطة - ا - الى
 القطب بمقدار ضعف تمام بعد الدائرة التي نريد وجود قطرها من
 القطب ونخرج من نقطة - د - خطا - على منتهى ما تأخذ الى الخط
 المماس للدائرة على نقطة - ا - فيكون بمقدار نصف القطر الذي
 نريد وبينه وقمه من الخط المماس ونقطة - ا - بعد مركز الدائرة
 في الخط الذي يقع عليه القطب .

(١) الشكل الثامن

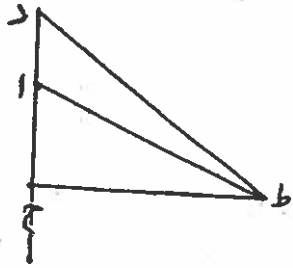


الاسطرلاب ص ١١
 شكل (٨)

ط - ثم نعود لتمام ما نحن بسبيله فنخط - دا ح - الذي
يقوم في سطح الأسطرلاب مقام دائرة - اب - في الشكل الكرى
المتقدم وتوهم القطب نقطة - ا - و - ح - مركز الدائرة القائمة
من - اب - على نقطة - ب - ونخرج - ح ط - عمودا على - دا ح
ونعمل على نقطة - ا - زاوية - ح ا ط - في البسيط شبيهة بزاوية
- ا - هناك في الكرة فتكون نسبة - ا ط - الى - ا ح - كنسبة
جيب - ح ز - الى جيب - ز ه - ونعمل على نقطة - ط - زاوية
ح ط د - شبيهة في البسيط بزاوية - ب - هناك في الكرة
فتكون نسبة - د ط - كنسبة جيب زاوية - ا - الى جيب - ح ط
الذي بمقدار تمام زاوية - ا - ونسبة - د ط - الى - د ح - كنسبة
جيب - اب - الى جيب - ا ج - وتلك النسب التي تبينت لنا من
الشكل المسطح - فط - المركز الذي نريد و - د ط - نصف قطر
دائرة - ب ج - فدح - نصف قطر الدائرة التي تقوم من خط
اب - على نقطة - ب - فقد وضح لك صحة ما ذكره ابو محمد السيفي
على غير طريق من تقدم في البرهان والترتيب (١) .

والحمد لله رب العالمين وصلواته على نبيه

محمد وآله الطاهرين .



الأسطرلاب ص ١٢
شكل (٩)